

令和4年度特色検査 問2 解説

(ア) それぞれの空欄に関するヒントは次のとおり。

あ…「こうした間仕切りのありよう(乱暴な振る舞いには簡単に壊れてしまいそうな脆弱なしつらい)によって」どうなるのかについては本文をヒントに考えよう。似た内容が17行目「無骨な所作はこの存在(=弱さを張りつめて強度としているような、逆説的な存在)によってたしなめられる」とある。「たしなめられる」とは「慎むべき言動であると注意される」こと。よって、「躰けられ」があてはまる。

い…本文 24～25 行目の記述を参考にする、「間仕切りのありようが、そういう気持ちにさせる」ということが読み取れるので、「簡素化」「解放」「醸成」の中では、「醸成」が適切だと判断できる。

※醸成…元は「醤油や酒などの発酵食品をつくる」という意味だが、そこから派生して「雰囲気や状況を生み出す」という意味でも用いられている。

例：不景気が国民の不安を醸成する。

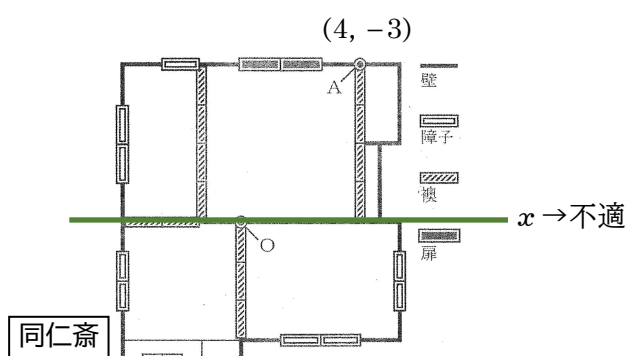
この時点で選択肢6が残る。

補足：東山文化と北山文化

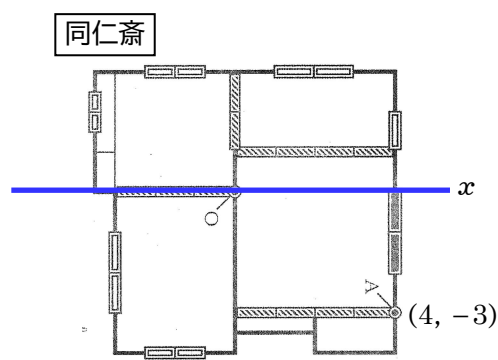
北山文化	文化	東山文化
室町時代前期 (3代将軍足利義満の頃)	時期	室町時代後期 (8代将軍足利義政の頃)
武家文化と公家文化の融合	特徴	簡素で生活に根差した文化
鹿苑寺 金閣 能楽(観阿弥・世阿弥)	代表的な文化	慈照寺 銀閣 水墨画(雪舟) 連歌 生け花 侘び茶 御伽草子

(イ) 解くに当たって最初のポイントとなるのが次の2点。

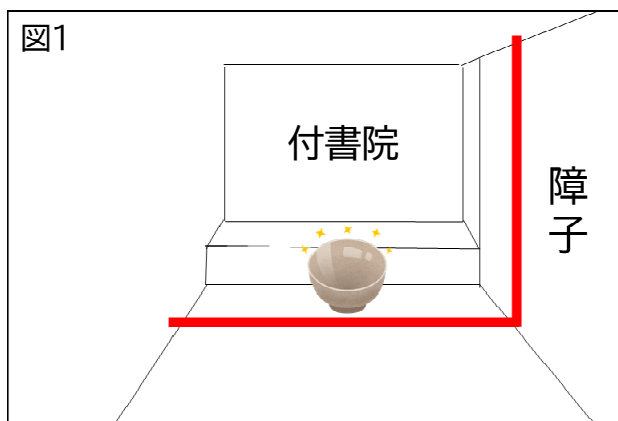
- ① 同仁齋の位置を特定する。 →付書院・違い棚の位置から、図2の左下の部屋が同仁齋だと分かる。
- ② 図2を右に90度回転させる。 →点Aのy座標が「-3」となっている。図aにおいて、点Oを通る緑色の直線をx軸とすると、y座標が-3となりおかしいため、この図を、下の図bのように右に90度回転させ、点Oを通る青色の直線をx軸とすることで解決する。



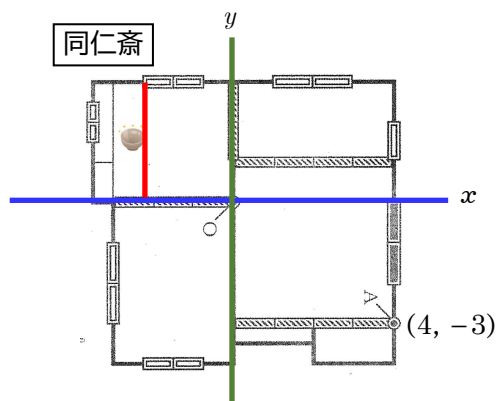
図a(問題用紙図2と同じ)



図b(右に90度回転させたもの)



図c(問題用紙図1の一部を簡略化したもの)

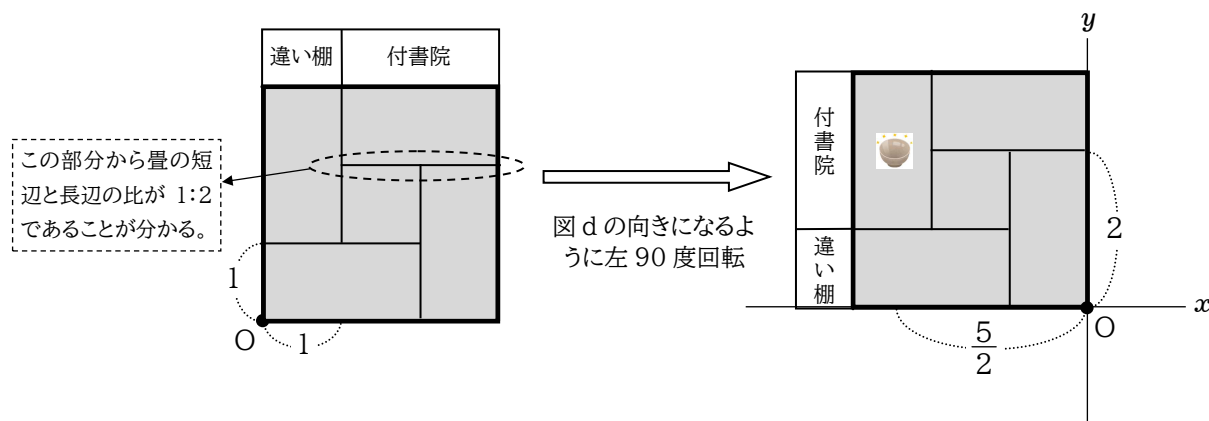


図d

図1の障子の位置に注目する。障子の端に線を引き、その線を畳の上に延長させる(図c)。すると茶わんが置かれた位置は、障子の端よりも付書院側にあることが分かる。この畳の上の線と茶わんの位置を図2にも書き込むと、図dのようになる。 x 軸と重なる襖3枚に注目すると、茶わんは、原点から左に襖2枚半ほどの位置に置かれていることが確認できる。

図dを見ると、点Aの左側に襖が4枚存在しているのが分かる。点Aの x 座標が4なので、襖1枚につき、座標の値1にあたる。すると茶わんの x 座標は、 -2.5 、つまり $-\frac{5}{2}$ であることが分かる。また、茶わんの位置の y 座標は正になるので、これをともに満たしている選択肢7が答えになる。

【別解】 同仁齋の畳の位置に注目してもよい。文章Iから、同仁齋は四畳半の畳敷きで、図1の写真から、畳は下の図のように敷かれていると判断できる。畳の短辺の長さが1だから、選択肢7が答えとなる。



(ウ) 4つの選択肢の共通点と相違点に注目する。4つとも、前後が「和紙の隙間の数に関する記述」「光の反射や散乱、吸収の多さに関する記述」に分かれている。この点に注目して選択肢を絞り込んでいく。

1. …隙間の少ない構造 光の反射や散乱、吸収が少なく…
2. …隙間の少ない構造 光の反射や散乱、吸収が多く…
3. …隙間の多い構造 光の反射や散乱、吸収が少なく…
4. …隙間の多い構造 光の反射や散乱、吸収が多く…

図3を見ると、和紙は繊維ひとつひとつが長く、繊維と繊維の間は隙間が多いことが見て取れる。洋紙の特徴はその逆で、隙間が少ないことが分かる。したがって、選択肢3と4の「隙間の多い構造」が正答の候補になる。

次に、選択肢後半の光の反射や散乱、吸収についての記述。隙間が多ければ多いほど、途中光が反射や散乱、吸収する機会が少ない。逆に隙間が少ないほど、光が反射や散乱、吸収する機会が多くなると考えられる。よって、正解は選択肢3。

(エ) 文章Ⅱからは、和紙は繊維が長く、丈夫で劣化が少ないという特徴が読み取れる。また図3からは、先ほどの設問(ウ)で確認したように、繊維が長く隙間が多いという特徴が分かる。劣化しにくいという点から活用例 e が、隙間が多い(=空気が通り抜けやすい)という点から活用例bがそれぞれ適切だと判断できる。よって、正解は選択肢5。

(オ) 和紙は隙間が多く、設問(ウ),(エ)で見てきたように、空気や光が通り抜けやすい。よって生徒Bの発言にある「外部の自然を変容させ、空気の気密性を高めています」という点が誤っているので、正解は選択肢2。